


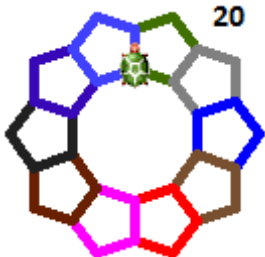
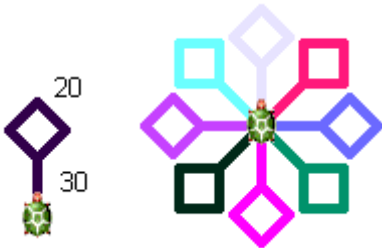

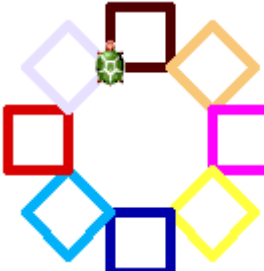
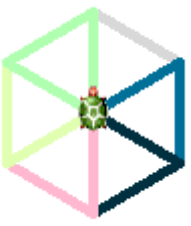



6.osztály ISM Szedd szét a feladatot elemeire! Taníts meg egyet, menj a következőhöz, majd ismételd őket!

 <p>20 négyzetek</p> <p>eljárás négyzetek ism 4 [ism 4 [e 20 j 90] tf j 90 e 40 b 90 tl tsz! tetsz] vége</p>	 <p>20 csillagok</p>	 <p>40 háromszögek</p>
 <p>20 medál</p>	 <p>20 30 forgó</p>	

 <p>30 színesnégyzetek</p> <p>eljárás színesnégyzetek tv! 5 ism 10 [tsz! tetsz ism 4 [e 30 j 90] j 90 e 30 b 90] vége</p>	 <p>30 forgónégyzet</p>	 <p>50 háromszögesforgó</p>
 <p>kapunagy</p>		

